

۱۰- با رسم شکل ، حاصل جمع و تفریق زیر را بنویس.

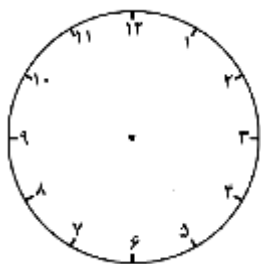
$$5 + 7 = \dots\dots\dots$$

$$13 - 8 = \dots\dots\dots$$

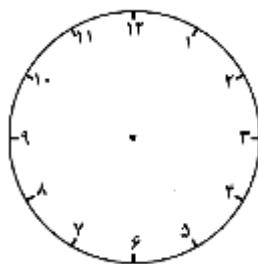
۱۱- حاصل جمع و تفریق های زیر را بنویس.

$\begin{array}{r} 89 \\ - 25 \\ \hline \end{array}$	$\begin{array}{r} 77 \\ - 32 \\ \hline \end{array}$	$\begin{array}{r} 42 \\ + 15 \\ \hline \end{array}$	$\begin{array}{r} 87 \\ + 74 \\ \hline \end{array}$	$\begin{array}{r} 23 \\ + 45 \\ \hline \end{array}$
-----------------------------------------------------	-----------------------------------------------------	-----------------------------------------------------	-----------------------------------------------------	-----------------------------------------------------

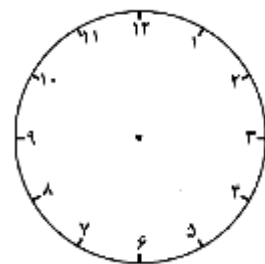
۱۲- با کشیدن عقربه ، ساعت های زیر را نشان بده.



یک ربع مانده به ۵



یک ربع بعد از ۸ و نیم






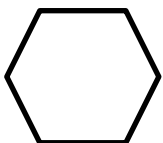
یک ساعت و ربع بعد از ۱۱

۱۳- چند عدد ۲ رقمی می توان نوشت که رقم یکانش ۳ و ۶ و رقم دهگانش ۱ ، ۴ و ۵ باشد.

۱۴- جواب جمع و تفریق های زیر را به صورت تقریبی بنویس.


$\begin{array}{r} 49 \\ - 14 \\ \hline \end{array}$	$\begin{array}{r} 71 \\ - 38 \\ \hline \end{array}$	$\begin{array}{r} 54 \\ + 18 \\ \hline \end{array}$	$\begin{array}{r} 32 \\ + 26 \\ \hline \end{array}$
-----------------------------------------------------	-----------------------------------------------------	-----------------------------------------------------	-----------------------------------------------------

۱۵- در هر شکل تعداد ضلع ها و گوشه ها را بنویس.

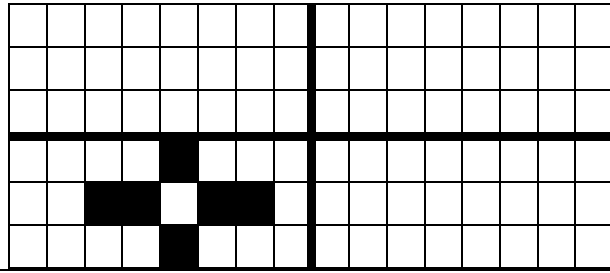


تعداد ضلع : تعداد ضلع : تعداد ضلع : تعداد ضلع : تعداد ضلع :
 تعداد گوشه : تعداد گوشه : تعداد گوشه : تعداد گوشه : تعداد گوشه :

۱۶- شکل های زیر چه تفاوت ها و چه شباهت هایی با هم دارند. بنویس.



۱۷- با توجه به خط تقارن ، سه قسمت دیگر را کامل کن.



۱۸- با توجه به الگو عددها را ادامه بده.

..... - - - - ۱۱ - ۶ - ۱

..... - - - - ۲۳ - ۲۰ - ۱۷

۱۹- با رقم و حروف بنویس.

۳۵۶ : با حروف هفتصد و سی و دو : با رقم

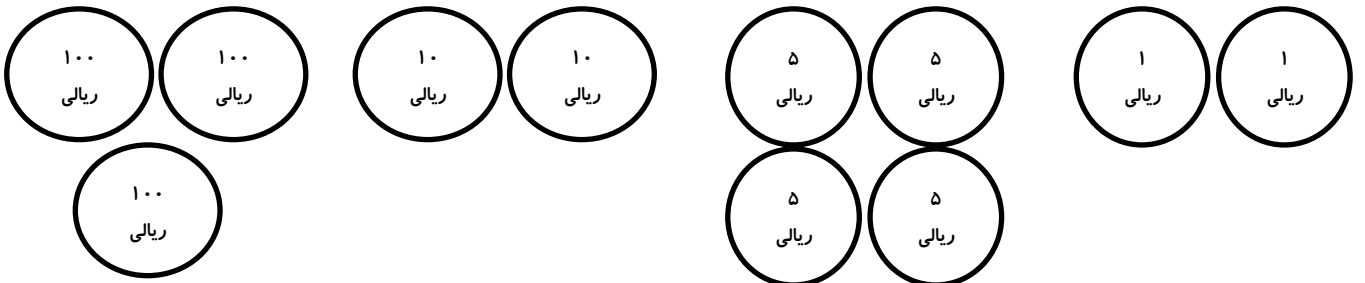
۲۰- با رقم های ۲ و ۷ و ۱ تمام عددهای سه رقمی را بساز و بنویس.

۲۱- باز شده ی هر عدد را بنویس.

۷۴۰ =

۳۹۳ =

۲۲- مقدار سکه های زیر چند ریال است ؟



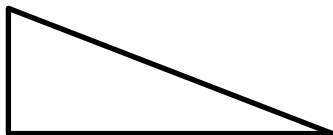
۲۳- در جاهای خالی عدد مناسب بنویس.

..... + ۲۴ = ۴۶

۵۰ - = ۲۳

۴۹ + = ۷۶

۲۴- با استفاده از خط کش ، اندازه ی ضلع های شکل زیر را بنویس.



۲۵- کامل کن.

۱۲۶ میلی متر یعنی سانتی متر و میلی متر .

۲۵ سانتی متر و ۶ میلی متر یعنی میلی متر .

۲۶- در جای خالی علامت مناسب < = > بنویس .

۲۵۴ ۲۴۵

۱۵۶ ۶+۱۵۰

۴۵۶ ۳۵۳

۷۱۷ ۷۷۱

۲۷- با حذف عددهای مساوی ، علامت مناسب بگذار.

$$۱۰۰ + ۳۰۰ + ۱۰ + ۵ \bigcirc ۳۰۰ + ۱۰ + ۵ + ۲۰ + ۱۰۰$$

۲۸- قدّ محمد ۱۵۶ سانتی متر است و قدّ سینا ۱۵ سانتی متر از او بلندتر است. قدّ سینا چند سانتی متر است؟

۲۹- مینا ۵ سگه ی ۱۰۰ ریالی و ۲ سگه ی ۱۰ ریالی و ۵ سگه ی ۱ ریالی داشت. او ۱۵۶ ریال آن را خرج کرد. حالا مینا چند ریال دارد ؟

۳۰- فاطمه ۳۷۵ ریال داشت. مادرش هم به او ۲۵۸ ریال داد. حالا فاطمه چند ریال دارد ؟

۳۱- حاصل جمع های زیر را بنویس.

۲۲۶	۳۰۹	۱۴۸	۵۴۷
+۱۹۵	+۲۸۶	+۳۶۳	+۲۸۷
<hr/>	<hr/>	<hr/>	<hr/>

۳۲- حاصل جمع زیر را با رسم شکل نشان بده.

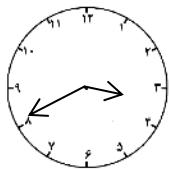
$$\begin{array}{r} ۴۵۷ \\ +۲۶۴ \\ \hline \end{array}$$

۳۳- حاصل تفریق های زیر را بنویس.

۵۹۳	۴۰۷	۳۵۳	۲۰۵
-۲۸۴	-۱۶۹	-۲۶۸	-۱۹۷
<hr/>	<hr/>	<hr/>	<hr/>

۳۴- حاصل تفریق زیر را با رسم شکل حساب کن.

$$\begin{array}{r} ۳۰۶ \\ -۱۷۷ \\ \hline \end{array}$$



۳۵- ساعت چند است ؟

یه ربع قبل ساعت چند بوده است ؟

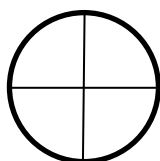
نیم ساعت بعد ساعت چند است ؟

۳۶- در جای خالی عدد مناسب بنویس.

*** *** *** ***

..... دسته ی تایی می شود

شکل بکش : ۳ دسته ی ۵ تایی



۳۷- به اندازه ی کسر نوشته شده از شکل ها را رنگ کن.

۲ قسمت از ۴ قسمت مساوی

۳ قسمت از ۸ قسمت مساوی



۳۸- سمانه ۲۶۳ ریال داشت. او دیروز ۱۲۵ ریال و امروز ۷۶ ریال خرج کرده است.

الف (سمانه روی هم چند ریال خرج کرده است ؟

ب (چند ریال برای سمانه باقی مانده است ؟

۳۹- حمیده در مهر ماه ۱۶۶ صفحه و در آبان ماه ۱۹۸ صفحه از کتاب داستانش را خوانده است. حساب کنید

حمیده در این دو ماه چند صفحه از کتاب را خوانده است ؟

۱ - ۲ - ۴ - ۷ - - -

۴۰- الگوی عددی زیر را ادامه بده.

۳۶۷ - ۳۶۵ - ۳۶۳ - - -

۴۱- پدر ایلیا ۶۲ سال دارد و ایلیا ۲۹ سال از او کوچک تر است. حساب کنید ایلیا چند سال دارد ؟

۴۲- قد امیرعلی ۱۸۶ سانتی متر است و قد حسین ۳۸ سانتی متر از او کوتاه تر است. قد حسین چند سانتی متر

است ؟

