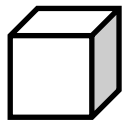



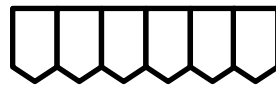
دانش آموز عزیزم، به اندازه ی کسر نوشته شده از شکل ها را رنگ آمیزی کن.



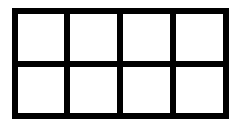
۲ قسمت از ۳ قسمت مساوی



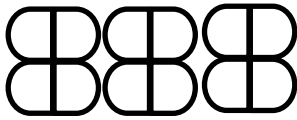
۳ قسمت از ۴ قسمت مساوی



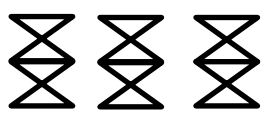
۳ قسمت از ۶ قسمت مساوی



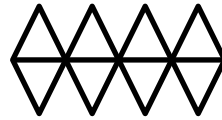
۴ قسمت از ۸ قسمت مساوی



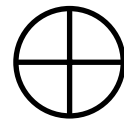
۶ قسمت از ۱۲ قسمت مساوی



۷ قسمت از ۱۲ قسمت مساوی

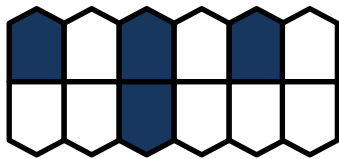


۵ قسمت از ۸ قسمت مساوی




۲ قسمت از ۴ قسمت مساوی

کلم در جاهای خالی عددهای مناسب بنویس.



..... قسمت از قسمت مساوی رنگ شده است.



..... قسمت از قسمت مساوی رنگ شده است.



..... قسمت از قسمت مساوی رنگ شده است.

با توجه به نمونه جاهای خالی را کامل کن.

۲۵ یعنی ۲ ده تایی و ۵ قسمت از ۱۰ قسمت مساوی

۳۶ یعنی ۳ ده تایی و قسمت از ۱۰ قسمت مساوی

۶۸ یعنی ۶ ده تایی و قسمت از ۱۰ قسمت مساوی


۱۹ یعنی ۱ ده تایی و قسمت از ۱۰ قسمت مساوی

مریم ۱۰ کتاب دارد. ۶ کتابش علمی و ۴ کتابش داستانی هستند.

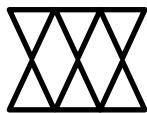
..... قسمت از قسمت داستانی هستند.

..... قسمت از قسمت علمی هستند.


کدام شکل ها به قسمت های مساوی تقسیم شده اند؟ آن ها را رنگ کن و زیر هر کدام تعداد قسمتهای مساوی را بنویس.



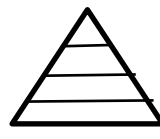
..... قسمت مساوی



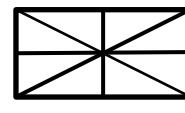
..... قسمت مساوی



..... قسمت مساوی



..... قسمت مساوی




..... قسمت مساوی



..... قسمت مساوی

برای شکل هایی که قسمت های مساوی دارند، عبارت کسری بنویس.



.....



.....



.....

تعداد انگشت های دو دست تو چند تا است؟ دو تا از آن ها را تا کن و به سوال های زیر جواب بده.

- چند تا از انگشت های تو تا شده اند؟ انگشت از انگشت.

- چند تا از انگشت های تو تا نشده اند؟ انگشت از انگشت.

جاهای خالی را کامل کن .

۲۶۵ میلی متر یعنی سانتی متر و قسمت از ۱۰ قسمت .

۱۹۲ میلی متر یعنی سانتی متر و قسمت از قسمت.

با توجه به محور زیر به سوالات پاسخ دهید :



الف) هر واحد از محور به قسمت مساوی تقسیم شده است.

ب) نقطه ی مشخص شده واحد و قسمت از قسمت مساوی است.

ج) نقطه ای را روی محور مشخص کنید که ۲ واحد و ۳ واحد از ۷ قسمت باشد.

به صفحه ۴۸ کتاب ریاضی نگاه کن. در تمرین شماره ی ۲ شکلی کشیده شده و نیمه ی بالایی آن رنگ شده است. حالا با توجه به این شکل جاهای خالی را کامل کن .

الف) قسمت از ۵۵ قسمت در شکل به رنگ سبز است.

ب) قسمت از قسمت در شکل به رنگ آبی است.

ج) قسمت از قسمت در شکل به رنگ قرمز است.

د) درباره ی رنگ دیگر مانند بالا جمله بنویس.

یک شکل دلخواه بکش و آن را به ۸ قسمت مساوی تقسیم کن و ۳ تا از آن قسمت ها را رنگ کن و در مورد آن یک جمله بنویس.


در یک ساعت :

۱۵ دقیقه یعنی قسمت از قسمت مساوی .

۳۰ دقیقه یعنی قسمت از قسمت مساوی .

۱۰ دقیقه یعنی قسمت از قسمت مساوی .

الگویابی کن .



یک خط راست بکش و آن را به ۳ قسمت مساوی تقسیم کن که هر قسمت ۲ سانتی متر باشد.

یک خط راست بکش و آن را به ۴ قسمت مساوی تقسیم کن که هر قسمت ۳ سانتی متر باشد.

جمله ها را کامل کن.

۵ ریال ، قسمت از یک ۱۰ ریالی است.

۹ ریال ، قسمت از یک ریالی است.

۳۵ ریال ، ۱۰ ریالی و قسمت از ۱۰ قسمت مساوی است.

۶۸ ریال ، ۱۰ ریالی و قسمت از ۱۰ قسمت مساوی است.

۱۲۵ ریال ، ۱۰۰ ریالی و ۱۰ ریالی و قسمت از ۱۰ قسمت مساوی است.

۲۶۸ ریال ، ۱۰۰ ریالی و ۱۰ ریالی و قسمت از ۱۰ قسمت مساوی است.

