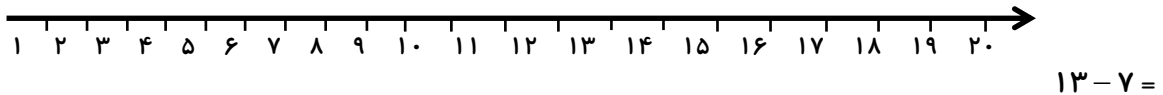
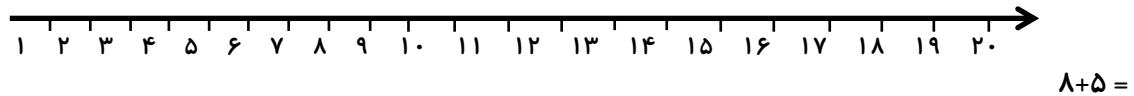


۱- جمع و تفریق زیر را با استفاده از محور انجام دهید.



۲- حاصل جمع زیر را با رنگ کردن مربع ها به دست آورید. $4 + 6 + 7 =$



۳- احمد ۳ بسته مداد رنگی ۶ تایی به رنگ های زرد ، سبز ، آبی ، قرمز ، قهوه ای و سیاه داشت. او رنگ های سبز و زرد هر ۳ بسته را برداشت . حالا چند مداد رنگی برایش باقی مانده است ؟ (این مسئله را با رسم شکل هم می توانید حل کنید)

۴- جاهای خالی را پر کنید .

۷ دسته ی ده تایی منهای ۴ دسته ی ده تایی می شود دسته ی ده تایی. $70 - 40 = \dots\dots\dots$

..... دسته ی ده تایی به اضافه ی دسته ی ده تایی می شود دسته ی ده تایی . $20 + 40 = \dots\dots\dots$

۵- برای شکل زیر یک جمع بنویس.



۶- جدول زیر را کامل کنید .

+	۶	۷	۸	۹
۴				
۵				

۷- جمع هایی را بنویس که حاصل آن ها برابر ۶ شود .

۸- تکالیف ریاضی و علوم مهدیه ۵۵ دقیقه طول کشید. اگر تکالیف علوم او ۲۹ دقیقه زمان برده باشد ، مهدیه در چند دقیقه تکالیف ریاضی را نوشته است ؟ (به روش طولانی)

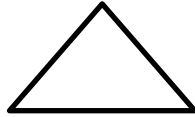
۹- چند عدد دو رقمی می توان نوشت که رقم یکانش ۴ یا ۵ و رقم دهگان آن ۶ یا ۷ یا ۸ باشد ؟

۱۰- به کمک شابلون دو شکل مربع و مستطیل رسم کنید و بیان کنید چه تفاوت ها و چه شباهت هایی دارند؟

۱۱- الگوی عددی زیر را ادامه بده .

۱ - ۲ - ۴ - ۷ - ۱۱ ، ، ،

۱۲- با رسم برش های لازم ، شکل ها را به ۴ قسمت مساوی تقسیم کنید.



۱۳- ۵ دسته ی صدتایی ۳ دسته ی ده تایی و ۴ تا یکی . به عدد به حروف این عدد را در جدول بگذار .

۱۴- با رقم های ۴ و ۳ و ۹ تمام عددهای سه رقم هایی که می توانید بنویسید.

۱۵- جمع زیر را به صورت تقریبی حل کن .

$$\begin{array}{r} 412 \longrightarrow \\ +176 \longrightarrow \\ \hline \end{array}$$

۱۶- ۱۹ میلی متر یعنی سانتی متر و میلی متر
یک خط ۴۵ میلی متری بکش .

۱۷- مریم ۶ سکه ی ۱۰۰ ریالی ، ۳ سکه ی ۱۰ ریالی و ۵ سکه ی ۱ ریالی داشت. او ۳۲۵ ریال در صندوق صدقات انداخت. حالا او چقدر پول دارد؟

۱۸- یک کتاب داستان ۲۷۶ صفحه دارد. اکرم ۱۳۹ صفحه را تا شنبه خوانده بود. روز شنبه ۵۸ صفحه ی دیگر را خواند. چند صفحه از کتاب باقی مانده است؟

۱۹- عدد ۳۴۷ را به صورت باز شده بنویسید.

۲۰- جمع و تفریق کنید.

$$\begin{array}{r} 600 \\ - 185 \\ \hline \end{array}$$

$$\begin{array}{r} 528 \\ + 275 \\ \hline \end{array}$$