

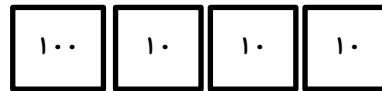
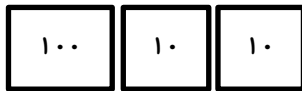
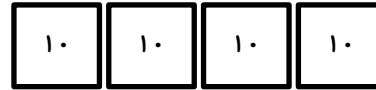
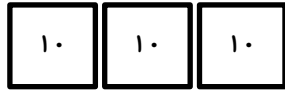
نام و نام خانوادگی:

نام آموزگار:


کلاس:

تاریخ:

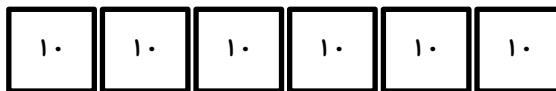

۱- ابتدا عددی را که هر شکل نشان می دهد بنویس و بعد علامت مناسب بگذار.



۲- عدد مربوط به هر شکل را در جدول بگذار و به حروف بنویس.



صدتایی	ده تایی	یکی



۳- عددها را با هم مقایسه کن و در جای خالی یکی از علامت های $<$ $=$ $>$ را بگذار.

$264 \bigcirc 268$

$516 \bigcirc 615$

$320 \bigcirc 320$

$401 \bigcirc 109$

$281 \bigcirc 381$

$755 \bigcirc 751$

$594 \bigcirc 495$

$889 \bigcirc 988$

۴- با حذف قسمت های مساوی از دو طرف ، علامت مناسب بگذار.

$50 + 100 + 3 + 20 + 5 \bigcirc 300 + 100 + 50 + 8 + 20 + 5$

$100 + 2 + 100 + 50 + 30 + 5 \bigcirc 300 + 100 + 5 + 2 + 20 + 30$

۵- جمع و تفریق های زیر را انجام بده و حاصل را با هم مقایسه کن.

$100 + 20 + 5 \bigcirc 20 + 5 + 50 + 50$

$300 + 300 \bigcirc 400 + 100$

$600 - 400 \bigcirc 500 + 100$

$200 - 100 \bigcirc 400 + 9$

۶- هر کدام از جملات زیر چه عددی را نشان می دهند؟

۶ صدتایی و ۱۴ ده تایی و ۱۳ یکی

۵ صدتایی و ۱۲ ده تایی و ۴ یکی

عدد	صدتایی	ده تایی	یکی
.....			

عدد	صدتایی	ده تایی	یکی
.....			

حروف

حروف

۷- با سه عدد ۵ و ۸ و ۲ عددهای سه رقمی بنویس و آن ها را از کم به زیاد مرتب کن.

۸- در جای خالی عددی بنویس که نامساوی کامل شود.

$..... > 561$

$..... < 59$

$..... > 856$

$159 >$

$105 >$

$759 >$

$..... < 489$

$..... < 186$

ولی محترم: در نوشتن تمرین های مشابه جمع و تفریق توجه کنید که جمع دو عدد بیشتر از ۹ نباشد.

۹- جمع و تفریق های زیر به روش طولانی را حل کنید.

۳۲۱	۱۰۹	۲۳۵	۴۱۲
+۲۵۳	+۲۵۰	+۴۵۲	+۱۷۶
_____	_____	_____	_____

۲۵۹	۷۰۹	۵۷۴	۴۵۶
-۱۲۷	-۱۰۵	-۲۳۲	-۳۱۴
_____	_____	_____	_____

۱۰- هر کدام از جملات زیر چه عددی را نشان می دهند؟

۳ صدتایی و ۱۲ ده تایی و ۱۱ یکی

۴ صدتایی و ۱۵ ده تایی و ۱۲ یکی

عدد	صدتایی	ده تایی	یکی	عدد	صدتایی
حروف				حروف	

۱۱- رضا ۲۳۰ ریال داشت. او یک تراش خرید به قیمت ۱۲۰ ریال. چند ریال برای رضا باقی مانده است؟

۱۲- حمید ۴ سگه ی ۱۰۰ ریالی، ۵ سگه ی ۱۰ ریالی و ۶ سگه ی ۱ ریالی داشت. او ۲۴۳ ریال از آن را خرج کرد. چند ریال برای حمید باقی مانده است؟

۱۳- قدّ سارا ۱۴۶ سانتی متر است. قدّ فاطمه ۲۰ سانتی متر از او بلندتر است. قدّ فاطمه چند سانتی متر است؟

۱۴- امیرمحمد ۲۵۶ ریال داشت. برادرش هم به او ۳۲۰ ریال داد. حالا امیرمحمد چند ریال پول دارد؟

۱۵- الگوی عددی زیر را ادامه بده.

..... - - - - ۱۶ - ۹ - ۴